


CA
RNO

Joel de Oliveira
40 anos
Passar a Limpa



Vocabulário

Ipiranga - Ribeirão que passa em São Paulo

Plácidos - sossegados

Brado - Grito

Heróico - Extraordinário

Fulgidos - Brilhantes

Penhor - Segurança garantida

Braço forte - Energia

Sabre - Cumprimento dos antigos romanos

Bandeira - Bandeira

Flâmula - Estandarte

Florão - Ornato redondo.

Jose Oliveira

Interpretação da poesia

Fugindo ao Cativoiro

Uma turma de cativos fugindo do escuro cativoiro chegaram perto da terra prometida não acreditavam e um homem muito velho apoeitou no cimo e começou a falar sobre o evangelho. Deus e nosso Senhor teve pena de mim.

Descrição 100
A tartaruga

A tartaruga vive mais na margem do Amazonas. A tartaruga põe os ovos na praia fazendo uma covra e cobrindo-os com areia. O calor do sol chacoa os ovos, e saem as tartarugas pequenas dos ovos pequenos. Os ovos grandes, não têm gema e têm um liquido grosso, que serve para alimentar as pequenas tartarugas. A tartaruga tem sua carne saborosa e seus ovos tambem são muito saborosos.

Fracções ordinarias

reduzindo fracções mistas em impróprias multiplicando o inteiro pelo denominador

19 Du
29 Du
39 Os
49 Os
59 Os
19 Mi
20 S
a La
a Os
19 Se
39 Ri
49 Se
59 Os
Ube

100
Geografia

- 1º) Quais são os limites do Estado de Minas?
 - 2º) Qual a Capital de Minas?
 - 3º) As principais rios de Minas?
 - 4º) As principais Montanhas de Minas?
 - 5º) As principais cidades de Minas?
- Respostas:
- 1º) Minas limita-se ao Norte pela Bahia;
 - ao Sul pelo Estado de São Paulo e Rio de Janeiro;
 - a Oeste com Espírito Santo, e Rio de Janeiro;
 - a Oeste com São Paulo, Mato Grosso, Goiás.
 - 2º) Belo Horizonte
 - 3º) Rio São Francisco, Rio Doce e Rio Grande
 - 4º) Serra da Mantiqueira e Serra do Espinhaço
 - 5º) As principais cidades são! Barão de Cocais
Uberaba Uberlândia.

Jose Oliveira

Passar esta continha, para o tratamento do 3º pessoa
Meu caro amigo

100
Recebi o teu recado pelo pequeno João, que nos deu
também notícias de todos de tua casa. Por ele devolvo-te
o romance como pediste e peço que me obtenhas o novo
livro do mesmo autor. Escreva e não deixes de dizer
que veno passar algumas horas com esta que te
quererá sempre e muito. Gêner
número
grau

Recebi o teu recado pelo pequeno João, que nos deu também
notícias de todos de tua casa. Por ele devolvo-lhe o
romance como pediste e peço que me obtenhas o novo
livro do mesmo autor. Escreva e não deixes de dizer
que veno passar algumas horas com este que lhe
quererá sempre e muito.

José

do 3º pessoa

o nos deu
ele devolveu-te
nhas a nois
s de dizer
que te

eu também
he o
nois o
de dizer
que lha

Exercício

Gênero	masculino	Patria proprio feminino
	feminino	singular normal
número	singular	ideia comum feminino
	plural	singular normal
grau	normal	palavra comum feminino
	aumentativo	singular normal
	diminutivo	história comum feminino
		singular normal
		tradições comum feminino
		singular plural normal
José Oliveira		ciências comum feminino
		plural normal
		povo comum masculino
		singular normal
		língua comum feminino
		singular normal
		riquezas comum feminino
		plural
		sorte comum feminino singular
		normal
		capão comum masculino
		singular aumentativo
		filinho comum masculino
		singular diminutivo

1º Qual é a superfície de um quadrilátero que mede 8 metros de comprimento por 4,25 largura
Resposta: 34m²

2º Uma família consome 2 kg de pão por dia. Paga 6,00 cada kg. Quanto gasta no mês de Abril
Resposta: R\$ 450,00

3º

Nos p
inpor
man
mais
por
por
inici
153
fute
fund
aldio

Um
cord
com
agua

100

no que
25 largura

190

dia Pago

Abril

Ditado

Início da colonização

Nos primeiros tempos, Portugal não deu grande importância à terra descoberta. Contudo D. Manuel mandou 3 expedições exploradoras ao Brasil. A mais importante porém, foi organizada, em 1530, por D. João III, sucessor de D. Manuel. Comandada por Martin Afonso de Souza, essa expedição deu início à colonização do Brasil. Aqui chegou, em 1531, trazendo colonos, gado, cana de açúcar, arvores frutíferas, e muitas sementes. Martin Afonso de Souza fundou, em São Paulo a colônia de São Vicente e a aldeia de Piratininga.

José Oliveira

Ditado

O lobo e o cordeiro

Um lobo bebia água num rio. Mais abaixo um cordeirinho também bebia, o lobo pensou logo em comê-lo, e disse-lhe fazendo-se zangado: Porque tuvas água que eu bebo? Não pode se senhor.

José Oliveira

Passar para prosa a poesia de Tomaz Gonzaga.
Lira XXXVI.

Meu amigo passarinho. Você não sabe
do meu tormento; não cante mais. Eu estou
muito triste por que não vejo mais a minha
Manilha, pois ela está no Estado de Minas. Você
vai e segue direito e passa uma revolta tem
muitos arvoredos e se cansar descança num
tronco de uma entre na estrada de Minas
num deserto tem uma formosa ponte tem a
segunda a terceira tem um palácio defronte

Mo

domingo:

Geografia

Zonas do Brasil 120

O Brasil é dividido em 5 Zonas:

o citou
minha
r. Vão
ora tem
nam
minas
a
de frente

Norte Amazonas e Pará. Territórios Acre, Guaporé, Rio Branco e Roraima.

Nordeste Maranhão, Piauí, Ceará, Rio Grande do Norte, Paraíba, Pernambuco, Alagoas e Ilha Fernando de Noronha.

Leste Sergipe, Bahia, Minas, Rio de Janeiro e Espírito Santo.
Região Sul S. Paulo, Paraná, Sta Catarina e Rio Grande do Sul.

Centro Oeste Mato Grosso, Goiás e Território de Ponta Porã
José Oliveira

O pulo da onça

Eu sou a onça mais perigosa do mato. Uma vez encontrei com o Compadre gato e lhe pedi: compadre gato, você quer me ensinar a dar pulos como você? Mas o gato respondeu que não era possível. A onça respondeu: compadre, você é muito pequeno para meu tamanho e também somos da mesma família. O gato começou a pular, a trepar nos arvoredos, pular no chão e cair de pé. A onça começou também a pular, deu um salto muito grande e caiu no gato; mas o bichano tirou o corpo de lado. A onça respondeu: isso você não me ensinou. O gato já ia longe.

Problemas

10) Um corralheiro pode gastar 17,00 por dia. Quanto pode gastar num ano de 365 dias?

Solução: $365 \times 17,00 = 6.205,00$

Resposta: Pode gastar num ano 6.205,00

29) Luiz nasceu em 1875. Quando completará 82 anos?

Solução: $1875 + 82 = 1957$

Resposta: Luiz completará 82 anos em 1957

39) Para ir à escola e voltar meu primo percorre 1975 metros. Quanto percorrerá num ano de 270 dias de aula?

Solução: $1975 \times 270 = 533.250$

Resposta: Meu primo percorrerá 533.250 metros

José Oliveira

Aparelho digestivo

O aparelho diges

Minha querida filha

Conce que já não sois a mesma Margarida e que esqueceis vossa infancia toda de Deus e do seu amor, para dar-vos ao mundo e só máis pensadas. Se eu descredo a isso tentaria nem de atemorizar-vos, nem de vos converter, seriais da qualas que não deixariam atemorizar e converter por uma palavra estranha. O que precisariis seriam as lições da vida, a ação linto das lagrimas

F. M.

15 pala

15 "

doce

deve

egonho

celeste

meu

celeste

certa

Cecilia

Vicent

cercad

esta

Conce

Copacet

Celio

exercit

for

1ª Nossa escola
É um conjunto de amor
A nossa escola querida
Pois cada aluno é uma flor
Que desbrocha pra vida

2ª

A mestra, mãe corinhosa
Que nos guia para o bem
Pela estrada luminosa
Que antecemos além

Colaboração dos alunos do 4º ano

Visto
8

Composição

Deus fez o mundo do Nada. Não tinha reparação de dia nem noite. No primeiro dia Deus criou o céu terra e a luz. No segundo dia Deus criou o firmamento separou as águas das águas. No terceiro dia Deus criou ervas, arvores frutíferas. No quarta dia Deus fez o sol - lua estrelas e colocou no firmamento. No quinto dia Deus criou os peixes e aves e mandou que crescessem e multiplicassem. No sexto dia Deus criou réptis e quadrúpedes, e o homem. No sétimo dia Deus descansou, alhou para ver se estava do seu gosto.

José Oliveira Visto

Descobrimto do Brasil - XXII - IV - MD
Cidade de Busto - XXXIII
Ano atual - VI - III - MCLIII
Independencia - VII - IX - MDCCLXXII
José Oliveira

Compensação

Um fogão a gás de 12 litros. Os outros artigos
de cozinha. A primeira das duas é uma
de 12 litros e a segunda de 10 litros.
O primeiro deles é para as refeições
e o segundo para as refeições. Os outros
artigos de cozinha são para as refeições.
A primeira das duas é para as refeições
e o segundo para as refeições. Os outros
artigos de cozinha são para as refeições.
A primeira das duas é para as refeições
e o segundo para as refeições. Os outros
artigos de cozinha são para as refeições.
A primeira das duas é para as refeições
e o segundo para as refeições. Os outros
artigos de cozinha são para as refeições.

Fora de casa

Descontando de Brasil - XII - 11 - 110
Tudo de fora - XX - 111
Base atual - VI - 111 - 111 - 111
Indicador - VII - 111 - 111 - 111
Fora de casa

Olimpio Noronha, 9 de Março de 1952

Aluno: José Oliveira

Professora D. Maria Antonieta Romano Salgado

Ditado

Constituição da República

A Constituição da República é a lei fundamental que assegura a nossa Pátria o regime representativo a Federação e a República. Todas as leis são originárias dela. A Constituição da República traça as responsabilidades dos seus cidadãos, os seus poderes, as suas garantias, os deveres do seus cidadãos, os serviços da União ensino, o serviço militar, o aperfeiçoamento da lavoura, da indústria, e comércio.

José Oliveira

Problemas

10. Paguei em R\$ 2.852,00 por 62 metros de camesina. Quanto me saiu o metro?

$$\text{Solução: } 2.852,00 \div 62 = 46,00$$

Resposta: Saiu a R\$ 46,00 o metro

11. Quantos anos há em 202.575 dias?

$$\text{Solução: } 202.575 \div 365 = 555$$

Resposta: Há 555 anos

12. A R\$ 60,00 a dúzia de canivetes, qual é o preço de 1?

$$\text{Solução: } 60,00 \div 12 = 5,00$$

Resposta: Cada canivete custa 5,00

13. Quantos dias há 38 anos?

$$\text{Solução: } 365 \times 38 = 13.870$$

Resposta: Há 13.870 dias

14. Um metro de brisa custa 26,00. Quanto custarão 749 metros?

$$\text{Solução: } 749 \times 26,00 = 19.474,00$$

Resposta: Custarão em R\$ 19.474,00

3º)

A quantia de R\$ 3.850,00 foi distribuída por 25 pobres. Quanto recebeu cada um?

Solução: $3.850,00 \div 25 = 154,00$

Resposta: Cada pobre recebeu R\$ 154,00

4º) Em que ano morreu uma pessoa que nasceu em 1812 e viveu 47 anos?

Solução $1812 + 47 = 1859$

Resposta Esta pessoa morreu 1859

5º) Qual é o quociente de 50.000 por 25?

Solução: $50.000 \div 25 = 2.000$

Resposta: O quociente é 2.000

6º) Qual é a área de nossa sala de aulas sabendo-se que mede 6^m de largura por 8,5 de comprimento?

Solução: $8,5 \times 6 = 51,0$

Resposta: A nossa sala mede 51,0

7º) Qual a área de um terreno triangular que mede 12^m de comprimento por 1,5 de altura?

Solução: $\frac{12 \times 1,5}{2} = 9,0$

Resposta: A área de um terreno triangular é de 9,0 metros

obras. Quanto

meu em

que

mede 12m

metro?

Olimpio Boronha, 10 de Março de 1952

Aluno: José Oliveira

Professora D. Maria Antônia R. Salgado

Composição

As férias

Nas férias de Dezembro eu fui passear na fazenda do senhor Vicente Celestino, que é muito meu amigo. A mulher dele chama-se Lala. Eles tinham 7 filhos. No curral tinha uma vaca muito brava, que dava medo. Vi também uma cachoeira, que media 70 metros de altura. Eu fui de bicicleta; no caminho furou pneu. Eu apareci um macaco muito bonito. Viajei de cavalo muitas vezes também de canoa. A canoa estava furada e entrou água. Eu voltei da fazenda de carro de onde cai e quase quebrei a perna. Trouxe um esqueleto para o museu da escola.

Modestia Oloro Balax
Se a todos os condiscipulos
Se pulgas superior,
Escondi o merito e colate
Sem os tentos teu valor

Valem mais que a inteligência
A constância e a aplicação
Se modesto! estuda, aplica-te
E foge da ostentação

Mais vale um merito proprio
Sentir quantos a occultos.
Porque o verdade merito.
Não gosta de exornar.

ilax

le

telegmeia
nicação:
ca-ti

is

Ditado
Carimiro de Abreu
Deus

Eu me lembro! Eu me lembro! Era pequeno
E brincava na praia o mar bravia
E peguenda o dorso altivo saudia
A branca espuma para o eu reruro

Eu disse a minha mãe, nise momento:
Que deusa orquestra! Que furor insano!
Que pode haver maior do que o oceano
Que que seja mais forte do que o vento?

Minha mãe a sorriso olhou pra eu
E respondeu: - Um Ser que nos não vimo.
E maior do que o mar, que nos tememos
Mais forte que o tufão: meu folho é Deus!!

Deus

Ata da eleição para a nova Diretoria do
Clube Agrícola Dr. Odilon Biehrens, das Escolas
Reunidas de Olimpio Noronha, município de
Cristiano.

Nos dezessete (17) dias do mês de Abril de 1942
às 9 horas, na sala do 3º ano estando presentes
as professoras Des. Maria Antonieta Romano
Salgado e Lúcia Pinelli Barleta, do 4º e 3º ano
respectivamente e quasi todos os alunos matricu-
lados.

Foi feita a eleição e apurou-se o seguinte:

Para Presidente: Adilson Martins

Para Secretária: Hilda Martins

Para Tesoureiro: Mauro Melo

Ficou resolvido que se fará 2 reuniões mensais
para tratar de assuntos de interesse do Clube.

Por nada mais haver lavrou-se a presente
ata em Hilda Martins a escrevi e a assino.

Maria Hilda Martins
Secretária

do
escola
rio de
1951
renta
no
ano
abri-
nte:
msois
&
te
o.

Olimpio Noronha
redação
O distrito de Olimpio Noronha, no município
de Cristina, fica situado ao sul de Ilina
Gerais e tem esse nome em honra à
memória do ilustre homem que, para
servir à Pátria, lutou voluntariamente
na Guerra do Paraguai.
Oferece a nossos olhos lindos panoramas;
possui grandes serras, das quais duas têm
o nome. Serra do Bugio e Serra do Buraço.
Fundo é pequeno, mas promete grande progresso
para o futuro. Sua iluminação é boa, sua
água é pura e cristalina. Tem dois grandes
e bem organizados laticínios, tendo um o
nome de Laticínios Santo Antônio. Possui
Varias casas comerciais, bares, uma sorvete-
ria e duas bem montadas padarias. Seu
povo é distinto e hospitaleiro.
Nossas escolas são bem arranjadas e
limpas. Por enquanto não temos o prédio

para o Grupo, mas si Deus quiser logo tomamos
e seria meu maior prazer frequentá-lo e
ajudar a fazer jardins e muitas outras
coisas.

Num alto fica a igreja de S. Sebastião
que foi inaugurada há pouco tempo.
Temos também um cinema muito
bem instalado. Olímpio Morcote
é o meu bozo e de todas as maneiras
por isso pega a Deus para que
jamais tenha que sair daqui.

F.M.

Qual é o coletivo de

bois = baiada	Dizer onde se encontram
Soldados = Exército	forões = caminhos
Cafeiros = Cafetal	colonos = fazenda
7 dias = Semana	pruros = cadeia
12 objetos = Duzia	sal = salina
144 = Quarta	tumulos = cemitério
100 = Centa	fazgadeiras = Nordestino
ovelhas = rebanho	Como se chamam os habitantes
lobos = alcateia	de Bisboa = Bisboene

Noz
Mi
Gal

Coa
pe
va
a

de
su
Am

na
Pup
76

lia
de
e p

na
fig

Esse
e f

o tomamos
lo e
outros

Nazari: nazareno
Minho: minhoto.
Galiza: Galiziano.
F.M.

Debartico
tempo.
amito
roscha
meus.
que
i.

D. Pedro II
foi filho de D. Pedro I, proclamador da Independência do Brasil e seu 1º imperador. Nasceu a 2 de Dezembro de 1825 devido à abdicacão de seu pai, sucedeu-lhe em 7 de Abril de 1831, com 5 anos de idade. O seu pai, o deixou, sob a tutela do grande António Carlos. Foi destronado em 15 de Novembro de 1889 com a proclamação da Republica, pelo marechal Deodoro da Fonseca. Exilaram-no com toda a familia. Faleceu em Paris em 5 de Dezembro de 1891. Foi o monarcha mais culto de sua época.

Padre Diogo Fijo
nasceu em Sta. em 1787 e faleceu em 1843. Foi
figura eminente no movimento politico nacional.
Exerceu as funcoes de Ministro da Justica
e fez parte da Regencia Una.

MINISTÉRIO DA VIAÇÃO E OBRAS PÚBLICAS
DEPARTAMENTO DOS CORREIOS E TELÉGRAFOS

CARIMBO DA ESTAÇÃO

Espeção.....	Número.....	Data.....	Hora.....
Origem.....	Palavras.....	Via e seguir.....	

HORA DA TRANSMISSÃO

Destinatário..... Francisco Ribeiro da Silva	Estado..... Minas Gerais
Cidade..... Santa Rita	(ou nome da estação territorial nos registros gerais)

INICIAIS DO OPERADOR

TELEGRAMA

Peco a Deus a proteja grande data
jose

TEXTO E ASSINATURA

Expeditor..... José Oliveira
Rua..... 200 Vicente de Paulo

Beirro.....

Imp. Nú. — 10 101

MOD. 531

Expedito José Oliveira
Rua São Vicente de Paulo

Beiro

Telefone

MOO. 531

Telegramas para aniversários
Abraços votos felicidades

Peço a Deus a proteção grande data

Deu redige todos os seus sonhos

Muitos abraços aniversário hoje

Telegramas e páramas

Envio votos de pesar falecimento seu pai.
Pecba justamente sua família meus pais
mes infante acontecimento
Deus ampare duro golpe acabam passar
Nossos sentimentos

Telegramas Boas Festas

Deu o Ano novo concretize todos os seus
sonhos.

Seja feliz no decorrer do 1959

Deço a Deus lhe conceda felicidade
Ano Novo.

Seja-lhe este natal mensageiro de saúde e mil
aventuras.

Ofício do Excm^o Sr. Dr. Juscelino Kubstich de
Oliveira

D. D. Governador do Estado de Minas Gerais
Belo Horizonte

Comunico-vos que as nossas Escolas
estão ameaçadas de um desabamento.
O teto está apodrecido, as paredes estão
caidando criando perigo para as
crianças e professoras.

Confiado em vosso espírito justiciero,
guardo vossa autorização para
transferirmos para outro prédio.
Aproveito a oportunidade para
apresentar-vos minhas respeitadas
saudações por Oliveira

O. Noronha município de Cristina
23 de Setembro de 1959

hecho de


es generis
3 ante

clar
mento.
es estáo
as


justicia
para
is
ria
sas

na

todos los lados iguales

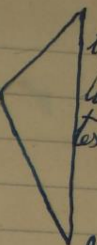


equilatero



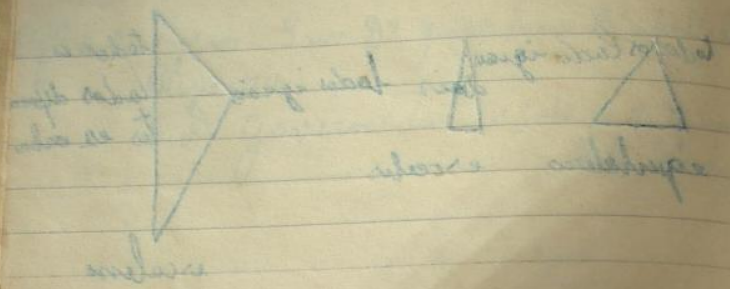
escalos

todos los lados iguales



todos los
lados diferen
tes es escalos

escalos



[Faint, illegible handwritten text, possibly bleed-through from the reverse side of the page.]

