

29 June  
Bretaña  
Lombard

VERA CRUZ

T.P. - MULTIPLICAÇÃO M.C.

Faça o esquema gráfico (linha e coluna) e dê os resultados dos produtos abaixo:

2 x 4 = 8

$4 + 4 = 8$ 
  
 $2 \times 2 = 4$ 
  
 $2 \times 2 = 4$

5 x 5 = 25

$6 + 6 + 6 + 6 + 6 = 30$ 
  
 $6 \times 5 = 30$ 
  
 $5 \times 5 = 25$

3 x 7 = 21

$3 + 3 + 3 + 3 + 3 = 15$ 
  
 $3 + 3 = 6$ 
  
 $3 \times 3 = 9$ 
  
 $7 + 7 + 7 = 21$

6 x 3 = 18

$3 + 3 + 3 + 3 + 3 + 3 = 18$ 
  
 $3 + 3 = 6$ 
  
 $6 + 6 = 12$ 
  
 $3 \times 6 = 18$

7 x 4 = 28

$7 + 7 + 7 + 7 = 28$ 
  
 $4 \times 7 = 28$ 
  
 $4 + 4 + 4 + 4 = 16$ 
  
 $4 + 4 + 4 = 12$

7 x 8 = 56

$8 + 8 + 8 + 8 + 8 + 8 + 8 = 56$ 
  
 $8 + 8 = 16$ 
  
 $18 + 8 = 26$ 
  
 $4 + 8 = 12$ 
  
 $7 + 7 + 7 + 7 + 7 + 7 + 7 = 49$ 
  
 $7 + 7 = 14$

5 x 5 = 25

$5 + 5 + 5 + 5 + 5 = 25$

6 x 4 = 24

$6 + 6 + 6 + 6 = 24$ 
  
 $4 + 4 + 4 = 12$ 
  
 $4 + 4 + 4 = 12$ 
  
 $4 \times 6 = 24$

7 x 7 = 49

$7 + 7 + 7 + 7 + 7 + 7 + 7 = 49$

ESCOLA VERA CRUZ

Nome; Luziana

data: 22/11/08

2a. Série

Ficha 0-3

(L.C.) - PORTUGUÊS

1 - Complete com o verbo.

Veja o exemplo:

(a) Hoje ele abre a porta.

Ontem ele abriu a porta.

(b) Hoje ele parte para a Inglaterra.  
(partir)

Ontem ele partiu para a Inglaterra.  
(partir)

(c) Hoje ele sube pelo elevador.  
(subir)

Ontem ele subiu pela escada.  
(subir)

(d) Nesse momento, ela foge da chuva.  
(fugir)

No mês passado, ela fugiu.  
(fugir)

2 - Agora passe para o plural as frases que indicam passado.

Na mês passado, elas fugiram.  
Ontem, elas subiram pela escada.  
Ontem, elas partiram para a  
Inglaterra.

ESCOLA VERA CRUZ

Nível II - 2ª. Série

Nome:

Luciana


data:

21/1/98

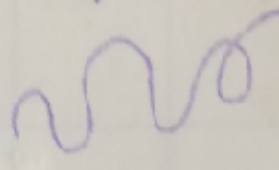
GEOMETRIA - CURVAS

1) Observe as curvas:


(a)




(b)




(c)




(d)




(e)



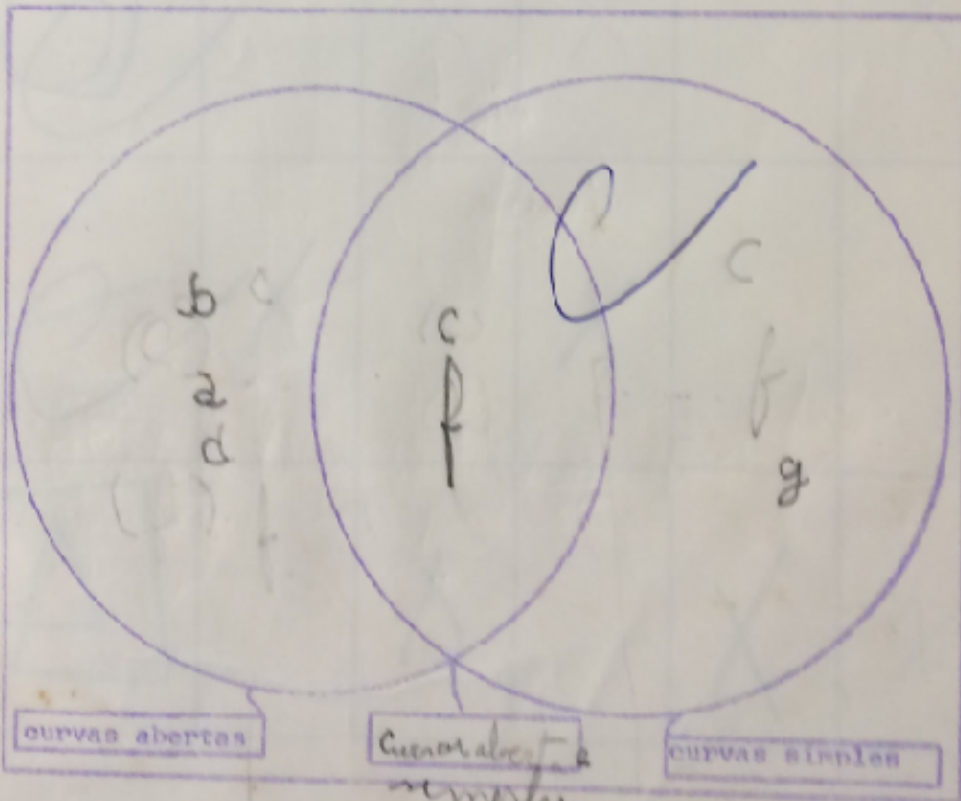
(f)



(g)

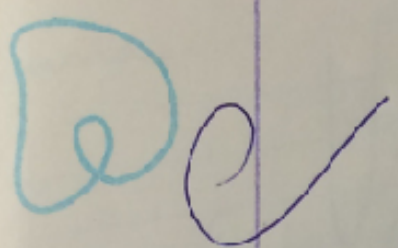

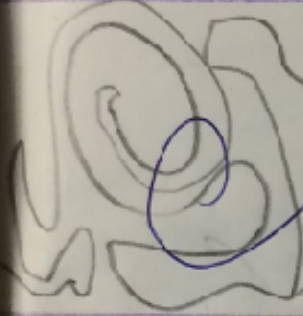
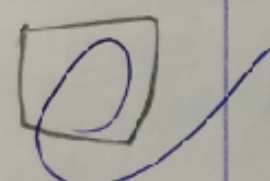

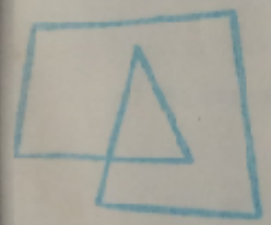


Coloque estas curvas no quadro abaixo:



2 - Complete o quadro, assinalando os espaços ou desenhando a curva de acordo com o que se pede.

0

CURVA	ABERTA	FECHADA	SIMPLES	NÃO SIMPLES	POLÍGONO
		X		X	
	X		X		
		X	X		X
	X		X		
		X		X	X



Nome: Luciana B. Sanchez Data: 2-6/7018

Romeu & Julieta  
Amigos amigos, duas famílias.  
Existia um casal o homem chamava Romeu e  
ela chamava Julieta. Romeu pensou:

Puá!! Quer casado e não tenha filha(s).

Então um dia nasceu uma filha.  
Ele ficou feliz da vida e a chamava Bia. Bia.

Declar de muito tempo Julieta disse:

- Deve gerar Bia foi gerou doente.

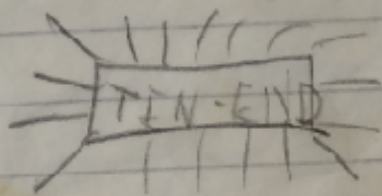
Com 3 anos Bia foi para a escola e pergun-  
taram:

Como é o seu nome?

E Bia - respondeu ela

Vou para casa e disse:

Mamãe eu agei fora a escola.



ESCOLA VERA CRUZ

NOME: Luciana

DATA: 14/1/83

2a. SÉRIE

Ficha E.S. 24

A.C. ESTUDOS SOCIAIS

PESQUISA DE ESTADO

1) Qual é o nome do estado que você escolheu para pesquisar?

Roraima

2) Em qual região do Brasil este estado se localiza?

Nordeste

3) Quais são os outros estados e os territórios que também pertencem a esta região?

Paráíba, Amapá, Maranhão, Piauí, Ceará, Rio Grande do Norte, Paraíba, Pernambuco, Bahia, Sergipe, Alagoas, Mato Grosso do Sul, Mato Grosso do Sul, Tocantins

4) O estado que você está estudando, é vizinho do oceano?

sim

não

Qual?

Oceano Atlântico

5) Quais são os estados vizinhos?

Paráíba

Ceará

Piauí

Bahia

Alagoas

Maranhão

6) Localize no planisfério:

a) Pinte os limites do estado que você está estudando na pesquisa. ✓

b) Escreva o nome desse estado. ✓

c) Escreva o nome do oceano que é vizinho deste estado. ✓

d) Pinte de uma cor diferente a região a que este estado pertence. ✓



7) Escreva o nome de todos os materiais que você vai trazer para o seu trabalho de pesquisa

2

(Guardador) fita

Estátua

ESCOLA VERA CRUZ

NOME: Luciana B. Rol

DATA: 14/11/78

2a. SÉRIE

Ficha E.S.24

A.C. ESTUDOS SOCIAIS

PESQUISA DE ESTADO

